

Сурагчийн нэр: .....

Эхэлсэн: ..... он ..... сар ..... өдөр



Уртын хэмжээг тоймлохдоо  $1 \text{ см} = 10 \text{ мм}$ ,  $1 \text{ дм} = 10 \text{ см}$ ,  
 $1 \text{ м} = 100 \text{ см}$ ,  $1 \text{ км} = 1000 \text{ м}$  байдгийг санаарай.  
 Жишээ:  $3 \text{ км } 50 \text{ м} \approx 3 \text{ км}$ ;  $3 \text{ км } 500 \text{ м} \approx 4 \text{ км}$ ;  $3500 \text{ м} \approx 4 \text{ км}$

1 Хэмжээг бичээрэй.

- а.  $1 \text{ см} = \underline{\quad} \text{ мм}$    б.  $1 \text{ м} = \underline{\quad} \text{ см}$    в.  $1 \text{ км} = \underline{\quad} \text{ м}$    г.  $3 \text{ дм } 5 \text{ см} = \underline{\quad} \text{ см}$   
 $1 \text{ дм} = \underline{\quad} \text{ см}$     $1 \text{ м} = \underline{\quad} \text{ дм}$     $1 \text{ км} = \underline{\quad} \text{ дм}$     $1 \text{ м } 85 \text{ см} = \underline{\quad} \text{ см}$   
 $1 \text{ дм} = \underline{\quad} \text{ мм}$     $1 \text{ м} = \underline{\quad} \text{ см}$     $1 \text{ км} = \underline{\quad} \text{ см}$     $2 \text{ км } 785 \text{ м} = \underline{\quad} \text{ м}$

2 Хэмжээг жишэээрэй.

- $90 \text{ см} \underline{\quad} 100 \text{ мм}$     $167 \text{ м} \underline{\quad} 1670 \text{ см}$     $4 \text{ км} \underline{\quad} 95 \text{ м}$   
 $10 \text{ дм} \underline{\quad} 20 \text{ см}$     $345 \text{ м} \underline{\quad} 3400 \text{ дм}$     $3 \text{ км} \underline{\quad} 5 \text{ дм}$

3 а. Өсөх эрэмбээр бичээрэй.

б. Буурах эрэмбээр бичээрэй.

- $600 \text{ см}$ ,  $700 \text{ дм}$ ,  $6 \text{ м } 78 \text{ см}$ ,  $3 \text{ м } 60 \text{ см}$     $76 \text{ см}$ ,  $8600 \text{ дм}$ ,  $78 \text{ м } 8 \text{ см}$ ,  $3 \text{ км } 8 \text{ м}$

4 Хэмжээг сантиметрээр тоймлоорой.

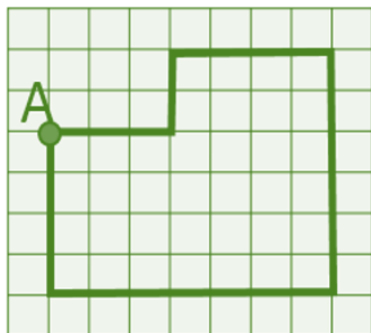
- а.  $32 \text{ см } 4 \text{ мм} \approx \underline{\quad} \text{ см}$    б.  $97 \text{ см } 6 \text{ мм} \approx \underline{\quad} \text{ см}$    в.  $137 \text{ см } 5 \text{ мм} \approx \underline{\quad} \text{ см}$   
 г.  $52 \text{ мм} \approx \underline{\quad} \text{ см}$    д.  $75 \text{ мм} \approx \underline{\quad} \text{ см}$    е.  $46 \text{ мм} \approx \underline{\quad} \text{ см}$

5 Хэмжээг километрээр тоймлоорой.

- а.  $2 \text{ км } 6 \text{ м} \approx \underline{\quad} \text{ км}$    б.  $59 \text{ км } 83 \text{ м} \approx \underline{\quad} \text{ км}$    в.  $357 \text{ км } 50 \text{ м} \approx \underline{\quad} \text{ км}$   
 г.  $9365 \text{ м} \approx \underline{\quad} \text{ км}$    д.  $2589 \text{ м} \approx \underline{\quad} \text{ км}$    е.  $49712 \text{ м} \approx \underline{\quad} \text{ км}$

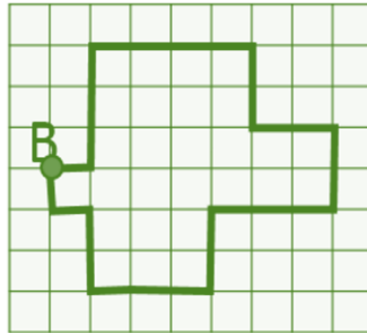
6 А, В цэг тус бүр байрандаа эргэж ирэхдээ хэдэн нэгж зам туулсан бэ?  
 (Нэгж замыг нэгж квадратын талын уртаар тооцоорой.)

а.



А цэг \_\_\_\_\_ нэгж зам туулсан.

б.



В цэг \_\_\_\_\_ нэгж зам туулсан.

Дууссан: .....сар .....өдөр



Даалгавар	1	2	3	4	5	6
Өөрийн үнэлгээ	😊	😊	😊	😊	😊	😊


Сурагчийн нэр: .....

Эхэлсэн: ..... он ..... сар ..... өдөр



- а.  $23 \text{ см } 6 \text{ мм} + 27 \text{ см } 7 \text{ мм} + 5 \text{ см } 4 \text{ мм} = 50 \text{ см} + 1 \text{ см} + 5 \text{ см } 7 \text{ мм} = 56 \text{ см } 7 \text{ мм}$   
 б.  $23 \text{ см } 6 \text{ мм} + 27 \text{ см } 7 \text{ мм} + 5 \text{ см } 4 \text{ мм} = 236 + 54 + 277 = 567 \text{ (мм)}$

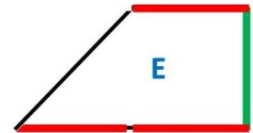
1 Дүрсийн талыг хэмжиж, хүрээний уртыг хялбар аргаар тооцоолоорой.




A \_\_\_\_\_ мм




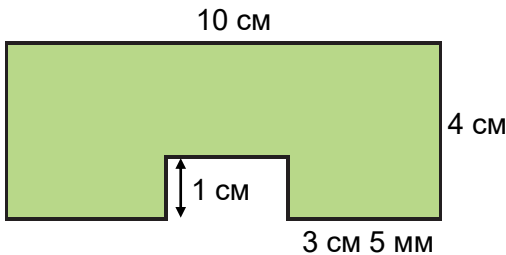
C \_\_\_\_\_ мм



E \_\_\_\_\_ мм



2 Дүрсийн хүрээний уртыг олоод, дециметрээр илэрхийлээрэй.



3 Хялбар аргаар нийлбэрийг олоорой.

- а.  $57 \text{ см } 6 \text{ мм} + 23 \text{ см } 7 \text{ мм} + 7 \text{ см } 4 \text{ мм} =$  \_\_\_\_\_  
 б.  $7 \text{ см } 4 \text{ мм} + 6 \text{ см } 2 \text{ мм} + 13 \text{ см } 8 \text{ мм} =$  \_\_\_\_\_  
 в.  $2 \text{ км } 584 \text{ м} + 5 \text{ км } 315 \text{ м} + 8 \text{ км } 35 \text{ м} =$  \_\_\_\_\_

4 Хялбар аргаар ялгаврыг олоорой.

- а.  $106 \text{ км } 524 \text{ м} - 15 \text{ км } 973 \text{ м} =$  \_\_\_\_\_  
 б.  $34598 \text{ м} - 23 \text{ км } 16 \text{ м} =$  \_\_\_\_\_  
 в.  $503 \text{ км} - 2316 \text{ м} =$  \_\_\_\_\_

5 Хэмжээг бичээрэй.

- а.  $\frac{1}{2} \text{ см} =$  \_\_\_\_\_ мм      б.  $\frac{1}{2} \text{ м} =$  \_\_\_\_\_ см      в.  $\frac{1}{2} \text{ км} =$  \_\_\_\_\_ м

Дууссан: .....сар .....өдөр



Даалгавар	1	2	3	4	5
Өөрийн үнэлгээ	😊	😊	😊	😊	😊

Сурагчийн нэр: .....

Эхэлсэн: ..... он ..... сар ..... өдөр



Тэгшитгэл:  
 $14 \text{ км} + A = 15 \text{ км}$   
 $A = 15 - 14$   
 $A = 3$   
 Ш:  $1\,497 + 3 = 1\,500 \checkmark$

$\frac{1}{2} \text{ км} + A = 2 \text{ км}$   
 $2 \text{ км} = 2000 \text{ м}$   
 $A = 2\,000 \text{ м} - 500 \text{ м}$   
 $A = 1500 \text{ м}$   
 Ш:  $500 \text{ м} + 1500 \text{ м} = 2\,000 \checkmark$

1 Мэдэгдэхгүй байгаа гишүүнийг олоод, шалгаарай.

а.  $35 \text{ м} + A = 100 \text{ м}$


б.  $B + 75 \text{ м} = 1 \text{ км}$


2 Хасагдагчийг олоод, шалгаарай.

а.  $X - 25 \text{ см} = 100 \text{ см}$


б.  $K - 8 \text{ дм} = 2 \text{ дм}$


3 Хасагчийг олоод, шалгаарай.

а.  $35 \text{ км } 200 \text{ м} - a = 35\,000 \text{ м}$


б.  $100 \text{ см} - c = 1 \text{ дм}$


4 Тэнцэтгэл бишийг бодоод, шалгаарай.

а.  $\frac{1}{2} \text{ дм} + A < 1 \text{ дм}$


б.  $X - \frac{1}{5} \text{ дм} < 3 \text{ см}$


Дууссан: .....сар .....өдөр

	Даалгавар	1	2	3	4
	Өөрийн үнэлгээ				



